

現代キーワード検定 サンプル問題

【制限時間 70 分】

解答時における注意事項

- ①試験監督者より試験開始の合図があるまで、問題冊子を開かないでください。
- ②試験時間は 70 分です。途中退室は試験開始 40 分後から終了 5 分前まで可能です。途中退室希望者は、挙手の上、試験監督者の指示に従って退室をしてください。なお、いったん退室した後の再入室はできません。
- ③試験は試験監督者の時計を基準に進行し、開始と終了の合図は口頭で行います。チャイムが鳴る場合がありますが、試験の進行とは関係ありません。
- ④トイレの使用は、試験後にお願いします。
- ⑤体調が悪くなり、受験を続けることができないと判断した場合は、試験監督者へ申し出てください。
- ⑥机の上に置いていいものは「受験票」「筆記用具」「身分証明書」のみです。
- ⑦辞書、参考書の使用は禁止です。
- ⑧試験中に、受験者同士が用具を貸し借りすることは禁止です。なお、筆記用具の貸出はしていません。
- ⑨携帯電話の電源は必ずお切りください。携帯電話を時計代わりに使用することは認めておりません。
- ⑩飲食、喫煙は禁止です。
- ⑪問題冊子の落丁、乱丁、印刷不鮮明がありましたら申し出てください。
- ⑫問題の内容に関する質問は一切受け付けません。
- ⑬解答する際は、マークシートの番号と解答番号をよく確認し、該当箇所をマークしてください。
- ⑭マークの塗りつぶしは、HB または B の黒鉛筆またはシャープペンシルで行ってください。マークシートの記入にボールペン、マジック、万年筆、サインペンは使用できません。
- ⑮問題冊子は試験終了後に回収します。持ち帰ることはできません。
- ⑯受験票は持ち帰り、試験結果が届くまでは保管してください。
- ⑰試験結果の通知は、〇月末を目処に受験者全員に送付します。〇月〇日までに通知が届かない場合は、現代キーワード検定事務局（info@gendai-keyword.jp）へお問い合わせください。
- ⑱この試験問題は、2009 年 10 月 15 日現在のデータに基づいて出題しています。

指示があるまで開いてはいけません。
試験終了後、問題冊子を回収します。

受験会場	
受験番号	
氏 名	

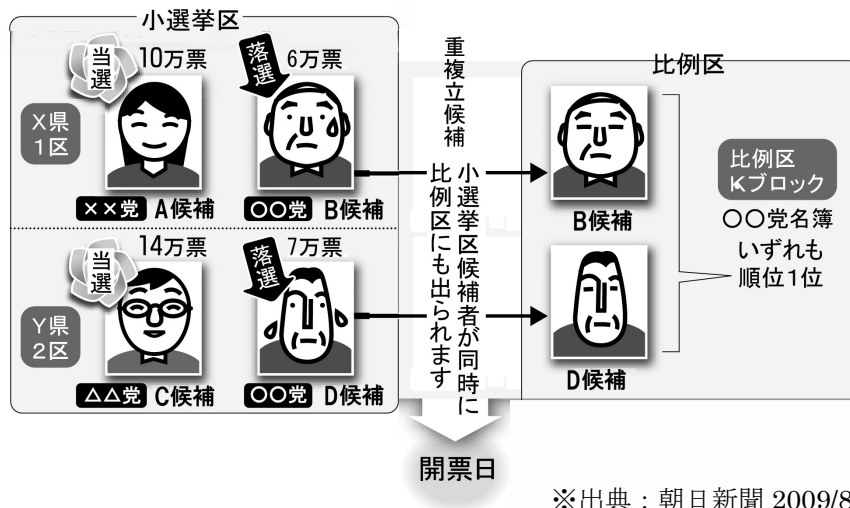


主催：現代キーワード検定協会
後援・出題：朝日新聞出版
実施機関：サーティファイ

1 政治

問1 小選挙区比例代表並立制における次の開票結果において、〇〇党の比例区獲得議席を1とした場合、当選者はだれか。但し、小選挙区での得票数は、いずれも供託金を没収される得票を上回っているものとする。また、比例区Kブロックの候補者は二名のみである。

1



※出典：朝日新聞 2009/8/29 朝刊 15面

- ア A 候補
- イ B 候補
- ウ C 候補
- エ D 候補

問2 国会の会期による分類に関する次の記述の空欄にあてはまる語句の組み合わせとして、正しいものはどれか。

2

国会の種類は三つある。毎年1回、1月に召集される国会を（ A ）、衆議院が解散し、総選挙が行われた後に召集される国会を（ B ）、必要に応じて閣議決定によって、また衆参どちらかの議院の総議員の4分の1以上の要求によって召集されるほか、任期満了による衆議院議員総選挙または参議院議員通常選挙後に召集される国会を（ C ）という。

	A	B	C
ア	特別国会	通常国会	臨時国会
イ	通常国会	特別国会	臨時国会
ウ	通常国会	臨時国会	特別国会
エ	臨時国会	通常国会	特別国会

問3 海賊対処法に関する次の記述の空欄にあてはまる語句の組み合わせとして、正しいものはどれか。 3

(A)の海上警備行動に基づき自衛隊の護衛艦2隻がすでにソマリア沖に派遣されていたが、2009年6月の海賊対処法の成立により、派遣の根拠法が切り替えられた。

(A)による海上警備行動との主な違いは、警備対象が日本船籍の船だけでなく、(B)の船にも拡大されたことと、海賊に対しての武器使用基準が緩和され、停船命令に応じない場合、(C)が可能となったことである。

また、警護目的での自衛隊の海外派遣が、国会での(D)なしに可能になった。

- ①事前承認 ②警告 ③可決 ④射撃 ⑤審議
⑥自衛隊法 ⑦外国船籍 ⑧海賊自衛法 ⑨邦人乗船 ⑩日本所有貨物積載

	A	B	C	D
ア	⑧	⑨	②	⑤
イ	⑥	⑦	④	①
ウ	⑧	⑩	④	③
エ	⑥	⑦	②	⑤

問4 公務員制度改革に関する次の記述のうち、誤っているものはどれか。 4

- ア 幹部職員人事を一元管理する「内閣人事局」を設置する。
イ 首相を補佐する「国家戦略スタッフ」を創設する。
ウ 政治家と公務員とが緊密な関係をつくるために、政官会合の記録を作成・公開する。
エ 国家公務員が定年まで働ける環境をつくり、天下りをなくすため、現在のキャリア制度を廃止する。

問5 道州制に関する次の記述の空欄にあてはまる語句の組み合わせとして、正しいものはどれか。

5

道州制は（ A ）をモデルに、現在 47 ある都道府県を再編して、国の権限や税財源を大幅に移譲し、より強い地方自治権を与えた広域自治体をつくる構想である。2006年の内閣総理大臣の諮問機関である地方制度調査会の答申では、「（ B ）道州」「11道州」「13道州」の三つの区割り案が提出された。道州制検討の背景としては、①市町村合併等の進展による影響、②都道府県の区域を越える広域行政問題の増大、③（ C ）改革の推進機運の高まり、の3点が挙げられる。

	A	B	C
ア	東京	8	財政
イ	北海道	9	地方分権
ウ	大阪	7	医療福祉
エ	米国	10	年金

問6 消費者庁に関する次の記述のうち、下線部分が正しいものの組み合わせはどれか。

6

- A 2009年9月に発足した消費者庁は、厚生労働省の外局として設立された。
- B これまでの縦割り行政の弊害を改め、消費者・生活者の視点から、消費者行政を一元化する目的で設置された。
- C 日本農林規格（JAS）法、製造物責任法など、表示や安全にかかわる約30の法律を所管し、行政処分・指導や他省庁への措置要求・勧告を行う。
- D 消費者庁の設置に伴い、消費者庁を監視する国民生活センターが設立された。

- ア A—B
- イ A—C
- ウ B—C
- エ C—D

問7 マニフェスト（政権公約）に関する次の記述のうち、誤っているものはどれか。

7

- ア 政党が有権者に対して、任期中の達成目標について具体的な数値や工程表を示す公約集のことである。
- イ マニフェストでの公約が著しく守れなかった場合、議員辞職などの罰則規定が設けられている。
- ウ 政党として初めてマニフェストを作成し、政権担当能力をアピールしたのは、2003年秋の総選挙の民主党である。
- エ 従来 of 選挙公約に比べて、達成度が検証しやすい。

問8 次の写真は2009年8月30日の衆議院選挙時の主な政党の代表である。獲得議席数が多かった政党順に並べたものとして、正しいものはどれか。

8

A



B



C



D



E



- ア B→C→A→E→D
- イ C→E→D→B→A
- ウ C→B→E→D→A
- エ B→E→C→A→D

2 経 済

問1 景気循環の波には期間によって四つの波がある。次の四つのうち、期間が最も短いものはどれか。

9

- ア ジュグラールの波
- イ クズネッツの波
- ウ コンドラチエフの波
- エ キチンの波

問2 国の経済規模を表す指標に関する次の記述のうち、誤っているものはどれか。

10

- ア 国内総生産（GDP）とは一定期間内に国内で生産された付加価値の総額である。
- イ 国民総生産（GNP）とは一定期間内に国民が生産した財やサービスの付加価値の総額である。
- ウ 国民総生産（GNP）には海外での生産活動による付加価値は含まれていない。
- エ 国内総生産（GDP）には商品の原材料費は含まれていない。

問3 次の表は米国の3大自動車メーカーであるビッグ3についてまとめたものである。空欄にあてはまる語句の組み合わせとして、正しいものはどれか。 11

自動車メーカー名	経営状況
(A)	2009年4月、日本の民事再生法にあたる(D)11条の適用を申請し、事実上破たんした。イタリアの自動車大手(E)との資本提携に合意、新会社を設立することになった。
(B)	2009年6月、(D)11条の適用を申請し、事実上破たんした。米政府の追加融資により、国有化し、早期再建を目指すことになった。再建計画では2010年までに米国内工場の従業員を35%削減し4万人にするなどの計画がある。
(C)	経営破たんを免れているとはいえ、2008年の通年決算では145億7100万ドルの最終赤字を計上し、3年連続の赤字となり、危機的状況にある。この業績悪化を受け、日本の自動車メーカー(F)の保有株33.4%のうち20%を売却した。

	A	B	C	D	E	F
ア	フォード	クライスラー	GM	連邦倒産法	フェラーリ	ホンダ
イ	クライスラー	GM	フォード	連邦破産法	フィアット	マツダ
ウ	GM	フォード	クライスラー	連邦倒産法	ルノー	トヨタ
エ	クライスラー	フォード	GM	連邦破産法	アルファロメオ	日産

問4 エコポイントに関する次の記述のうち、正しいものはどれか。

12

- ア 不況対策とエコ対策を兼ねた制度で、2009年5月15日から2011年3月末までに購入した商品に限定される。
- イ 一定の省エネ基準を満たしたテレビ、エアコン、冷蔵庫が対象商品である。
- ウ エコポイントの正式名称は「グリーン家電リサイクル事業」である。
- エ 申請後にポイント数に応じた現金を受け取ることができる。

問5 産業再生法に関する次の記述の空欄にあてはまる語句の組み合わせとして、正しいものはどれか。

13

産業再生法は金融危機による急激な売上高の落ち込みで（ A ）が減少した一般企業の再生を支援するために、2009年4月に成立した。資本増強を求める企業が申請、認定されれば、（ B ）などが資金を出資する。仮に支援を受ける企業が倒産した場合には、政府が日本政策金融公庫を通じて、損失の5～8割程度を補填する仕組みで、出資を促す。支援企業第1号となったのは、（ C ）だった。

	A	B	C
ア	株 価	政府系ファンド	エルピーダメモリ
イ	自己資本	日本政策投資銀行	エルピーダメモリ
ウ	自己資本	日本銀行	三洋電機
エ	株 価	政府系ファンド	三洋電機

問6 2008年秋以降の世界的な金融危機への対応に関する次の記述のうち、下線部分が誤っているものはどれか。 14

- ア 2009年9月に開かれたG20財務相・中央銀行総裁会議において、業績連動型の報酬が金融機関の経営者らを目先の利益追求に走らせ、危機を招く一因になったとの反省を踏まえ、報酬体系の国際基準を策定する方向性が打ち出された。
- イ 2009年9月に開かれた国際決済銀行（BIS）の中央銀行総裁会議において、銀行の自己資本比率規制を強化することで合意した。
- ウ 2009年9月に開かれた欧州連合（EU）の財務相理事会では、金融機関経営者の報酬制限は導入しないことで合意した。
- エ 2009年9月に開かれたG20財務相・中央銀行総裁会議において、危機はまだ終わっていないとして、景気刺激策を継続する方針で合意した。

問7 消費税に関する次の記述のうち、正しいものはどれか。

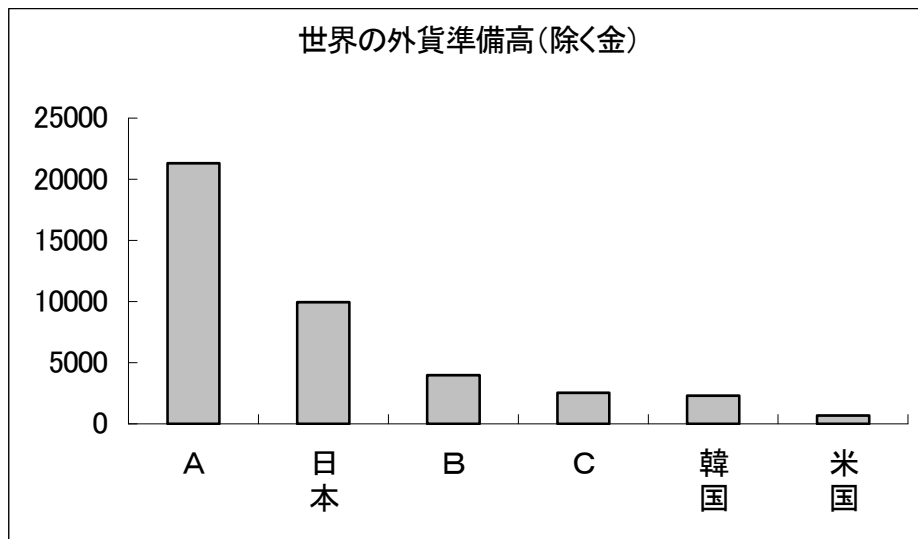
15

- ア 日本で最初に消費税が導入されたのは1989年の4月で、税率は1%だった。
- イ 消費税率が5%に引き上げられたのは、1997年の4月からである。
- ウ 消費税率5%の内訳は、国税が3%で地方消費税が2%である。
- エ 消費税は直接税である。

問8 次の図は世界の外貨準備高である。図の A~C の国の正しい組み合わせはどれか。
 (単位：億ドル)

16

※データはすべて 2009 年 6 月末現在。



出所：IMF “International Financial Statistics”、Datastream 等

	A	B	C
ア	ロシア	中国	インド
イ	中国	ロシア	インド
ウ	ロシア	インド	中国
エ	中国	イギリス	フランス

3 国際関係

問1 為替に関する次の記述のうち、正しいものはどれか。

17

- ア 円高のとき、輸出価格は下落する。
- イ 円安のとき、輸入価格は上昇する。
- ウ ある国の通貨と他国の通貨の交換比率のことを変動為替相場という。
- エ 国と国との貿易によって生じる債権・債務を決済する手段を貿易為替という。

問2 国連安全保障理事会に関する次の記述の空欄にあてはまる語句の組み合わせとして、正しいものはどれか。

18

国連安全保障理事会は世界の平和と安全に重要な権限を持ち、常任理事国と（ A ）から構成されており、常任理事国は（ B ）カ国、（ A ）は10カ国で任期2年となっている。常任理事国は重要問題の決議の際に1カ国でも反対すれば決定できない（ C ）を持っている。重要問題以外の決議では、全理事国のうち（ D ）カ国以上の賛成で決定できる。日本は2008年の選挙で、2009年から10回目の（ A ）となった。

	A	B	C	D
ア	緊急理事国	5	反対権	10
イ	非常任理事国	5	拒否権	9
ウ	臨時理事会	8	拒否権	5
エ	非常任理事国	5	反対権	8

問3 北朝鮮の2009年5月の核実験を受けて、国連安全保障理事会は同年6月、対北朝鮮制裁決議1874を出した。この決議に関する次の記述のうち、正しいものはどれか。

19

- ア 北朝鮮へまたは北朝鮮から核・ミサイル関連物資が出入りすることを阻止するため、陸・海・空で、北朝鮮の貨物検査を加盟国すべてが自国領域内で実施することを要請する。
- イ 公海上での北朝鮮の貨物検査は旗国（船舶の所属国）の同意に基づいて行い、供給、売却、移転、輸出が禁止された物資が確認された場合、警告を与える。
- ウ 大量破壊兵器に限って、北朝鮮への輸出を禁止する。
- エ 北朝鮮へのすべての新たな無償援助、金融支援、無利子融資の供与を禁止する。

問4 オバマ米大統領の就任後の成果に関する次の記述のうち、下線部分が誤っているものはどれか。

20

- ア 2009年4月にチェコの首都プラハで「核兵器を使用した唯一の核兵器保有国として、米国には行動する道義的責任がある」と演説し、「核のない世界」に向けて歩みを進める姿勢を世界に示した。
- イ 2009年6月に訪問したエジプトのカイロ大学で、「イスラムへの偏見と戦うことは米大統領の責任」と述べて、ブッシュ政権時代に悪化したイスラム世界との和解に向けて道を開いた。
- ウ 2009年7月、ロシアを訪問し、メドベージェフ大統領と地球温暖化問題について合意した。
- エ 環境技術の普及と経済再生を同時に目指すグリーン・ニューディール政策を進めた。

問5 米州サミット（首脳会議）に関する次の記述のうち、正しいものはどれか。

21

- ア 米州サミットは、米州機構（OAS）に加盟している南北アメリカ及び豪州の首脳による会議である。
- イ 第5回の米州サミットは2009年4月、ロサンゼルスで開催された。
- ウ 第5回の米州サミットでは、米国によって米州機構（OAS）から排除されているキューバの加盟と対キューバ経済制裁の解除要求が、米国に対して求められた。
- エ 第5回の米州サミットに初めて出席したオバマ大統領は、キューバとの対話再開に意欲を示した。

問6 EU リスボン条約に関する次の記述のうち、誤っているものはどれか。

22

- ア 欧州連合（EU）の機能強化を定めた条約で、2007年12月、加盟国がリスボンで署名した。
- イ 2009年10月、それまで国民投票で批准を拒否していたアイルランドが批准を可決し、前提であった全加盟国の批准が成立したため、条約発効が確定する見込みである。
- ウ 条約では、慎重な意思決定を行うために、意思決定の際には多数決方式ではなく全会一致主義を基本としている。
- エ 条約では欧州連合（EU）の大統領、外相が新設され、対外的にEUの存在感を示すものである。

問7 アフガニスタン情勢に関する次の記述のうち、正しいものはどれか。 23

2009年8月の大統領選挙の結果、大統領に当選したのは（A）であった。アフガニスタンでは、（B）年9月の「9.11」を契機に始まった米国を中心とする攻撃により、（C）勢力は一時弱体化していたが、近年、勢力が拡大され、大統領選挙の妨害が頻繁に起きた。（C）は、イスラム原理主義の武装勢力で、（D）の石仏の爆破など過激な行動で知られる。

	A	B	C	D
ア	アブドラ	2001	タリバーン	バーミヤン
イ	カルザイ	2005	ハマス	敦煌
ウ	カルザイ	2001	タリバーン	バーミヤン
エ	アブドラ	2005	ハマス	敦煌

問8 国際原子力機関（IAEA）に関する次の記述のうち、誤っているものはどれか。

24

- ア 2009年7月、IAEAの事務局長選挙で天野之弥氏が日本人としては初めて当選した。
- イ NPT（核不拡散条約）に加盟していないインド、パキスタンは、IAEAにも加盟していない。
- ウ 2005年にはIAEAとモハメド・エルバラダイ事務局長（当時）が核拡散を防ぐための功績を評価されノーベル平和賞を受賞した。
- エ 本部はオーストリアのウィーンにある。

問9 2009年8月のビル・クリントン元米大統領の訪朝に関する次の記述のうち、正しいものはどれか。 25

- ア 北朝鮮に拉致されている日本人の救済が主な目的であった。
- イ 北朝鮮の非核化に関する調印が主な目的であった。
- ウ 北朝鮮の6者協議への復帰を実現するのが主な目的であった。
- エ 北朝鮮に拘束された2人の米国人ジャーナリストの解放が主な目的であった。

問10 BRICs（ブリックス）に関する次の記述のうち、誤っているものはどれか。

26

- ア 近年、急速な経済成長を続けている新興諸国であるブラジル、ロシア、インド、中国の4カ国の頭文字をつなげた造語である。
- イ BRICsの経済規模は2039年には米日独仏英伊6カ国合計を抜くと予測されている。
- ウ BRICsの国はすべて核兵器を保有している。
- エ 2009年6月にBRICsの初の公式首脳会議が開かれ、国際金融改革などが議題となった。

問 11 ミャンマー(ビルマ)の社会情勢に関する次の記述のうち年代順に並べたものとして、正しいものはどれか。 27


- A サイクロンによる大被害のなか、新憲法の是非を問う国民投票を強行実施し、圧倒的多数で承認されたとして、偽装的民主化を進めた。
- B 軍事政権は、国民民主連盟（NLD）の書記長として選挙運動中のアウン・サン・スー・チーさんを1回目の自宅軟禁処分にした。
- C 軍部がクーデターを起こし、全権を掌握し、軍政を強化して、民主化運動の弾圧を強めた。
- D ^{バンギミン}潘基文国連事務総長と軍政トップのタン・シュエ国家平和発展評議会議長が会談した。

- ア A→C→D→B
- イ B→A→C→D
- ウ C→B→A→D
- エ D→A→B→C

4 科学・技術・情報

問1 「きぼう」に関する次の記述のうち、誤っているものはどれか。

28



- ア 「きぼう」は国際宇宙ステーション (ISS) に取り付けられた日本の実験棟である。
- イ 「きぼう」は日本の実験棟であるが宇宙にあるので日本に主権はなく、国際宇宙ステーション (ISS) に参加している 15 カ国が共有している。
- ウ 2009 年 3 月に打ち上げられた、スペースシャトル「ディスカバリー」に搭乗した若田光一宇宙飛行士は、「きぼう」に長期滞在してさまざまな実験を行った。
- エ 「きぼう」の最後のパーツは、2009 年 7 月に打ち上げられたスペースシャトル「エンデバー」に積み込まれ、取り付けられた。

問2 日食に関する次の記述のうち、正しいものはどれか。

29

- ア 2009年7月22日の皆既日食は、1963年7月に北海道で観測されて以来、日本では46年ぶりの観測であった。
- イ 日食の起きる確率は、月食に比べて少ない。
- ウ 2009年7月22日の日食で、部分食が観測される地域は、日本では仙台市が北限であった。
- エ 日食は、月と太陽の間に地球が入ることによって起こる。

問3 地上波放送のデジタル化に関する次の記述の空欄にあてはまる語句の組み合わせとして、正しいものはどれか。

30

地上デジタル放送は（ A ）年7月24日までに地上（ B ）放送から完全に移行されるが、総務省の発表によると2008年度末の地デジ受信機の普及率は（ C ）%でこの1年で急速に普及したとはいえ、予定より低い数字になっている。政府は地デジ対応機器の購入困難な低所得者に対しては（ D ）の無料配布の申請受付も開始した。

	A	B	C	D
ア	2011	アナログ	80.2	有線テレビ対応機器
イ	2012	ブラウン管	70.8	地デジ対応テレビ
ウ	2012	BS	30.6	衛星放送受信機
エ	2011	アナログ	60.7	地デジチューナー

問4 次の iPS 細胞に関する次の記述のうち、正しいものはどれか。

31

- ア 京都大学再生医科学研究所の山中伸弥教授らが、2006年にマウスの細胞で作製に成功し、2007年にはヒトの細胞でも成功したが、倫理的な問題がある。
- イ 皮膚などの体細胞に、受精卵のように様々な細胞や組織になれる能力を持たせた人工多能性幹細胞のことである。
- ウ 受精卵を壊して作製した幹細胞で、分裂増殖によって様々な機能を持つ組織に変化させることができる。
- エ iPS 細胞は現在、日本だけが開発に成功しており、再生医療に大きな可能性が開けている。

問5 青少年有害サイト規制法に関する次の記述のうち、誤っているものはどれか。

32

- ア 18歳未満の青少年をインターネット上の「有害」な情報から守るための法律で、2009年4月に施行された。
- イ 規制法で定義されている青少年に「有害」な情報とは、①犯罪や自殺を誘引、②著しく性欲を刺激、③著しく残虐、が挙げられている。
- ウ 2008年に携帯電話会社に対して、未成年の新規契約者、及び既存契約者全員にフィルタリング（有害サイト閲覧制限）サービスへの加入を実施することが義務づけられた。
- エ パソコンメーカーは、パソコンへのフィルタリングソフトの組み込みが義務づけられている。

問6 日本が打ち上げた人工衛星・探査機の名称と任務の組み合わせとして、正しいものはどれか。 33

	人工衛星・探査機の名称	任務
ア	はやぶさ	火星探査機
イ	HTV	物資補給技術実証機
ウ	まいど1号	月探査機
エ	いぶき	気象衛星

問7 2008年1月に発売された台湾製のパソコンが発端となり普及した「ネットブック」と呼ばれるパソコンが低価格である理由に関する次の記述のうち、誤っているものはどれか。 34

- ア 性能がやや劣る CPU（中央演算処理装置）を搭載しているため。
- イ 最新ではない OS（オペレーティングシステム）を搭載しているため。
- ウ 表計算ソフトや文書作成ソフトを搭載していないため。
- エ インターネットへの接続や電子メール機能を搭載していないため。

問8 グーグルが開発中の「グーグル・クローム OS」に関する次の記述の空欄にあてはまる語句の組み合わせとして、正しいものはどれか。 35

2009年10月に発売されるマイクロソフト（MS）の新しいOS（パソコン用基本ソフト）（「A」）に対抗し、米インターネット検索最大手のグーグルが開発を発表したOS「グーグル・クローム OS」は、グーグルが開発段階から（B）で開発し、（C）で提供される。2010年後半には低価格小型パソコンのネットブックに搭載される予定。これに対し、マイクロソフトも検索大手の（D）と提携し、検索部門でグーグルを追い抜く態勢を整えている。

	A	B	C	D
ア	Windows Vista	オープンソース	有償	ヤフー
イ	Windows 7	極秘	無償	グー
ウ	Windows 7	オープンソース	無償	ヤフー
エ	Windows Vista	極秘	有償	グー

5 環境・国土

問1 次の表は主な次世代自動車のしくみをまとめたものである。空欄にあてはまる語句の組み合わせとして、正しいものはどれか。

36

自動車名	動力源	特徴
(A) 車	ガソリンエンジンと電気モーターを併用。	車の運動エネルギーを電気に変えてバッテリーを充電。
プラグインハイブリッド車	ガソリンエンジンと電気モーターを併用。	(B) から充電。大容量の充電が可能で、走行距離が延びる。
電気自動車	電気モーター	排出ガスなし。充電式バッテリー搭載。(C) イオン電池の開発が進んでいる。
燃料電池車	燃料電池	燃料電池は (D) と酸素を反応させ電気を発生させ、排出するのは水だけ。

	A	B	C	D
ア	バイオ燃料	家庭用コンセント	ナトリウム	ヘリウム
イ	ハイブリッド	小型発電機	水素	リチウム
ウ	ハイブリッド	家庭用コンセント	リチウム	水素
エ	バイオ燃料	小型発電機	カリウム	メタン

問2 クリーンエネルギー発電を組み合わせたものとして、正しいものはどれか。

37

- ア 風力発電 ー火力発電 ー地熱発電
 イ 太陽光発電ー風力発電 ー水力発電
 ウ 風力発電 ー太陽光発電ー潮力発電
 エ 地熱発電 ー原子力発電ー波力発電

問3 ポスト京都議定書の日本、米国、EU（欧州連合）の温室効果ガス削減の中期目標に関する次の記述の空欄に入る数字の組み合わせとして、正しいものはどれか。

38

2009年9月、鳩山首相は温室効果ガス削減の2020年までの中期目標として、1990年比で（A）%削減することを国連気候変動首脳会合で国際的に表明した。この数値は2009年6月に麻生首相（当時）が表明していた（B）%減（1990年比）、米国、EU（欧州連合）の中期目標であるそれぞれ14%減（2005年比）、（C）%以上減（1990年比）を上回る目標数値で、日本のリーダーシップに期待が寄せられている。

	A	B	C
ア	20	8	15
イ	25	8	20
ウ	25	20	20
エ	20	20	15

問4 核燃料サイクルに関する次の記述のうち、誤っているものはどれか。

39

- ア 原子力発電所の使用済みの核燃料を処理して、ウランとプルトニウムを取り出し、それらを再び混ぜ合わせて、混合酸化物（MOX）燃料として利用する。
- イ 使用済み核燃料の再処理工場は青森県の六ヶ所村にあり、現在本格的に稼働中である。
- ウ ウランとプルトニウムを混ぜたMOXを通常の原子力発電所（軽水炉）で再利用することをプルサーマルという。
- エ 高レベル放射性廃棄物最終処分場の候補地の選定が、安全性に不安があるとして住民の反対で難航している。

問5 緊急地震速報に関する次の記述のうち、正しいものはどれか。

40

- ア 緊急地震速報は予想される地震の最大震度が3以上のものについて、事前に知らせるものである。
- イ この地震情報のシステムは、地震発生時の初期微動（S波）を感知し、その後に来る大きな揺れ（P波）の規模と到達時間を予測することで、揺れる前に知らせることができる。
- ウ 2007年から一般への提供が開始され、土石流の警報を出すタイミングも早まると期待される。
- エ 文部科学省が開発している瞬時速報システムは、緊急地震速報より数秒早く危険を知らせるのが目標である。

問6 猛暑日に関する次の記述のうち、誤っているものはどれか。

41

- ア 1日の最高気温が25℃以上になる日のことを真夏日、30℃以上になる日のことを猛暑日という。
- イ 気象庁が2007年4月から天気予報などで使う気象用語として定義した。
- ウ 1990年以降、猛暑日の回数が急増しているが、この原因の一つにはヒートアイランド現象があるとされている。
- エ 熱中症予防のためにわかりやすい言葉として猛暑日が定義された。

問7 生物多様性基本法に関する次の記述のうち、下線部分が誤っているものはどれか。

42

- ア 「生物多様性基本法」は、絶滅の危機に瀕した動植物の保護を目的に、2008年5月に成立した法律である。
- イ 「生物多様性基本法」は、多様な生物を守るためのわが国初の法律で、生態系の保護に一定の効果が期待されている。
- ウ これまでの「鳥獣保護法」では、海洋哺乳類の一部や爬虫類、両生類、魚類、植物などは対象外であった。
- エ 「生物多様性基本法」は、文字通り基本法なので、関連法令などが整備されていないためその実効性が危ぶまれている。

問8 ラムサール条約に関する次の記述のうち、正しいものはどれか。

43

- ア この条約は、湿地などに生息する希少種の水鳥を指定し、水鳥の保全を目的にして1971年に採択され、1975年に発効した。
- イ この条約は、国際的に重要な湿地を登録し、湿地の保全を目的としている。
- ウ この条約は、1971年にイランで開催された「湿地及び水鳥の保全のための国際会議」で「特に水鳥の生息地として国際的に重要な湿地に関する条約」として採択された。
- エ 日本の登録湿地は法的に開発が制限されていることが前提となっているが、そのすべてが国設鳥獣保護区か国立公園または国定公園に指定されているわけではない。

6 社会・教育・労働

問1 公的年金に関する次の記述のうち、正しいものはどれか。

44

- ア 公的年金には国民年金、厚生年金、老齢年金の3種類がある。
- イ 厚生年金は民間企業の労働者が加入する。
- ウ 自営業者が加入する年金は、共済年金である。
- エ 加入者の配偶者で保険料を納めなくても国民年金の加入者となることができるのは、厚生年金の加入者の被扶養配偶者だけである。

問2 ワークシェアリングに関する次の記述のうち、誤っているものはどれか。

45

- ア ワークシェアリングとは雇用対策の一種で、仕事を多くの人に分け与えることで、1人当たりの労働時間と給料は少なくなるが、雇用が守られる。
- イ 給料が下げられるため、日本ではワークシェアリングはあまり普及しなかった。
- ウ 2008年秋以降の不況でワークシェアリングを提唱したのは、日本経団連の御手洗会長である。
- エ ワークシェアリングの成功国は、ヨーロッパではイギリスが有名である。

問3 世界の主な国の市民参加型の裁判制度に関する次の記述のうち、下線部分が正しいものはどれか。 46

- ア 2009年5月からスタートした日本の裁判員制度では、裁判官と、衆議院議員の選挙人名簿から無作為に選ばれた6人の裁判員が、合議のうえ有罪か無罪かを決定し、有罪の場合には量刑を行う。
- イ 米国の陪審員制度は、小陪審においては選挙人名簿などから無作為に選ばれた18歳以上の12人の陪審員が、裁判官から独立して、事実認定に基づき、原則全員一致で有罪か無罪かの決定のほか、量刑も行う。
- ウ フランスの参審制度は、裁判官と、選挙人名簿から無作為に選ばれた23歳以上の9人の参審員が、合議のうえ有罪か無罪かを決定するが、量刑は行わない。
- エ ドイツの参審制度は、裁判官と、政党等から推薦された25歳以上の2人の参審員が、全員一致で有罪か無罪かを決定するが、量刑は行わない。

問4 改正国籍法に関する次の記述のうち、誤っているものはどれか。 47

- ア 結婚していない日本人の父親と外国人の母親との間に生まれ、生後に認知された婚外子にも日本国籍を認めるもので、2009年1月から施行された。
- イ 両親の未婚を理由に子どもに日本国籍を認めないのは「不合理な差別で違憲」とした、2008年の最高裁判決を踏まえての改正である。
- ウ この改正法では、虚偽の国籍届け出に対しては罰則規定はなく、届け出に対する信頼のうえに成り立っている。
- エ 付帯決議として、半年ごとの国会への報告や父子関係を確認するためのDNA鑑定導入の必要性の検討などが盛り込まれた。

問5 公立の小中一貫教育制度に関する次の記述のうち、誤っているものはどれか。

48

- ア 小中一貫教育は、生徒の能力や学力に合わせた柔軟な教育を目的にしている。
- イ 小中一貫教育は、中学入学後の勉強進度の違いや先輩後輩の上下関係の厳しさなど、学校に適応できない「中1ギャップ」を防ぐのが目的の一つである。
- ウ 従来の小学校6年、中学校3年の枠組みを外し、「5・4」「4・3・2」などに組み替える学校もある。
- エ 小学生が中学校の授業や部活動を体験したりすることは行われているが、小学校の先生が中学生を教えたりという、小中学校の先生の連携はない。

問6 文部科学省は、2009年4月にスタートした教員免許更新制を廃止する方針を同年10月固めた。これに関する次の記述のうち、正しいものはどれか。

49

- ア 廃止予定の教員免許更新制では、2009年度から取得する教員免許に10年間の有効期限が設けられ、更新時には講習を受けることが義務づけられている。
- イ 教員免許更新制が廃止された後の新制度については、白紙の状態であり、今後、早急な検討が必要である。
- ウ 教員免許更新制が廃止となる第一の理由は、現場の教員からの反対の声が大きかったことである。
- エ 現在の教員免許更新制の廃止時期は、2010年3月末の予定である。

問7 派遣労働者に関する次の記述のうち、誤っているものはどれか。

50

- ア 2008年秋以降の世界同時不況で、派遣労働者が多数解雇され、同時に住まいも失うなどの社会問題が起きたことから、「ワーキングプア」「派遣切り」など身分の不安定な派遣労働者に関して法的見直しの声が上がった。
- イ 労働者派遣法改正案では、最も不安定とされる「日雇い派遣」の原則禁止が2008年秋の国会へ提出された。
- ウ 登録型派遣とは、派遣労働者は派遣会社に登録して、派遣の仕事があるときだけ派遣会社と雇用契約を結ぶ雇用形態のことである。
- エ 常用型派遣とは、派遣労働者は派遣先の社員となり、派遣先の会社から解雇された場合でも派遣会社から給料が出る雇用形態のことである。

問8 ワーク・ライフ・バランスに関する次の記述の空欄にあてはまる語句の組み合わせとして、正しいものはどれか。

51

少子高齢化が進み、労働力確保のため、子育てや介護をしながらでも働き続けることができる社会づくりを目指すもので、政府も2007年に（A）と行動指針を策定した。「仕事か生活か」の二者択一ではなく、「仕事も生活も」という「仕事と生活の調和」の考え方のこと。政府の行動指針では、週（B）時間以上働く労働者の割合を現在の10.8%から半減させる。（C）後も女性が働き続ける率を現状の38%から55%へ向上させること、また男性の育児休業取得率の向上などの数値目標もある。

	A	B	C
ア	改正労働基準法	60	結 婚
イ	ワーク・ライフ・バランス憲章	60	第1子出産
ウ	ワーク・ライフ・バランス憲章	50	結 婚
エ	改正労働基準法	50	第1子出産

7 医療・福祉

問1 新型インフルエンザに関する次の記述のうち、誤っているものはどれか。

52

- ア 2009年4月、最初にメキシコで発症が確認され全世界に蔓延した新型インフルエンザは、鳥インフルエンザであった。
- イ 2009年6月に新型インフルエンザの警戒段階についてWHOが宣言したフェーズ6は、6段階のうちで最も高いもので、世界的大流行、パンデミックといわれる。
- ウ 今回のWHOのパンデミック宣言は、感染症としては1968年の香港風邪以来41年ぶりであった。
- エ 今回の新型インフルエンザでは、人から人への感染が確認された。

問2 改正薬事法に関する次の記述の空欄にあてはまる語句の組み合わせとして、正しいものはどれか。

53

2009年6月に施行された改正薬事法では、一般用医薬品の（A）販売が義務づけられたため、ビタミン剤などの比較的副作用の少ない第3類医薬品を除き、インターネット販売、（B）販売が原則禁止されることになった。ただし、条件付きで2年の猶予期間が設けられた。

また、今回の改正で新設された「登録販売者」がいれば、（C）がいなくても一般用医薬品のうち副作用が比較的少ない第2類医薬品と第3類医薬品に限って、コンビニエンスストアやスーパーマーケットなどでも販売できるようになった。

	A	B	C
ア	契約	対面	店舗管理者
イ	対面	会員制	薬剤師
ウ	対面	通信	薬剤師
エ	契約	契約制	店舗管理者

問3 2009年7月改正の臓器移植法の主な改正点に関する次の記述のうち、正しいものはどれか。 54

- ア 脳死を一律に「人の死」とし、本人または家族の同意がなくても、脳死と判定されれば15歳未満の脳死患者からの臓器提供が可能になった。
- イ これまで15歳未満では遺言可能年齢に達しないことから禁止されていた、本人の意思表示が条件となる脳死患者からの臓器提供が、家族の同意があれば可能になった。
- ウ 「脳死」と判定された場合、これまで3親等以内の同意があった場合に限り15歳未満の脳死患者からの臓器提供が可能であったが、その年齢制限が12歳未満に引き下げられた。
- エ これまで容認されていた海外での臓器移植が完全に禁止された。

問4 インフォームド・コンセントに関する次の記述のうち、誤っているものはどれか。 55

- ア 医師側から治療方針・医療内容を患者側に十分に説明したうえで患者が治療に同意すること。
- イ 病気の診断や治療方針について、現在受診している主治医以外の医師の診断などを受けること。
- ウ 日本では1990年に日本医師会生命倫理懇談会がインフォームド・コンセントを根づかせることが重要であるとの報告書を出した。
- エ 医師は、病気の内容、治療法の種類、治癒確率、治療の問題点、危険性などを患者に具体的に説明し、治療法の選択や同意をさせる。

問5 水俣病救済法に関する次の記述のうち、正しいものはどれか。

56

- ア 水俣病救済法で一時金などが支給される対象者は、「手足の先ほどしびれる感覚障害」「全身性の感覚障害」「視野が狭くなる」など新たに加えた四つの症状の一つでもあてはまる人である。
- イ 水俣病救済法では、チッソが有害な工場排水を止めた 1969 年以降に生まれた人も対象者となる。
- ウ 水俣病救済法では、対象者に支払う一時金の額は厚生労働省の判断で行う。
- エ 水俣病救済法では、チッソ本社が将来にわたって補償することを明記している。

問6 薬害 C 型肝炎訴訟に関する次の記述のうち、下線部分が誤っているものはどれか。

57

- ア 2002 年に、薬害 C 型肝炎の被害者たちが国を相手取って訴訟を起し、国は 2007 年までに、5 地裁のうち 4 地裁で敗訴した。
- イ 薬害 C 型肝炎の原因は、出産や手術の際、止血剤として C 型肝炎ウイルスに汚染されたフィブリノゲンなどの血液製剤を投与されたことによる。
- ウ 薬害肝炎被害者救済法が成立し、国と原告団は製剤投与が確認された患者に症状に応じて 1200 万～4000 万円を支払う和解基本合意が締結された。
- エ 薬害肝炎被害者救済法に基づく給付金を患者や遺族が受けるには、患者側が 2013 年までに投薬の事実を証明する必要がある。

問7 障害者自立支援法に関する次の記述のうち、正しいものはどれか。

58

- ア 2006年10月に、障害者の自立を促し、地域で働き、生活することを目標に全面施行された。
- イ これまで一本化されていた「身体・知的・精神」の3障害を個別にし、サービスの質を高めることになった。
- ウ 利用者の5割においてサービス利用料の負担が減少し、ある程度の効果が出たことで、社会的評価を受けている。
- エ サービス利用料の1割を負担する「応益負担」から、障害者の所得に応じた「応能負担」へ移行した。

問8 後期高齢者医療制度に関する次の記述の空欄にあてはまる語句の組み合わせとして、正しいものはどれか。

59

後期高齢者医療制度は、(A) に代わって2008年4月に創設された、(B) 以上の高齢者と65歳以上の障害者を対象とする公的医療保険である。現役世代の医療保険制度と切り離され、独立した医療制度となった。しかし、保険料の本人負担増が低所得者ほど大きいなどの問題点が判明。追加で(C) がとられた。また、納付方法の手続きミスで二重取りや徴収漏れなどの混乱も起こった。導入時から不評な同制度は、政権交代で抜本的な見直しが行われる見込みである。

	A	B	C
ア	長寿医療制度	70歳	軽減措置
イ	長寿医療制度	75歳	返還措置
ウ	老人保険制度	70歳	返還措置
エ	老人保険制度	75歳	軽減措置

8 マスコミ・文化・スポーツ

問1 2009年6月、辻井伸行が優勝した国際ピアノコンクールは次のどれか。 60

- ア チャイコフスキー国際コンクール
- イ ショパン国際ピアノコンクール
- ウ バン・クライバーン国際ピアノコンクール
- エ ローゼンストック国際ピアノコンクール

問2 近年の夏季オリンピックの開催都市を開催順に並べたものとして、正しいものはどれか。 61

- ア シドニー → バルセロナ → アトランタ → アテネ → 北京
- イ ロサンゼルス → モントリオール → 北京 → アテネ → シドニー
- ウ バルセロナ → アトランタ → シドニー → アテネ → 北京
- エ バルセロナ → ロサンゼルス → アテネ → シドニー → 北京

問3 村上春樹に関する次の記述の空欄に入る語句の組み合わせとして、正しいものはどれか。

62

村上春樹のデビュー作は1979年に群像新人文学賞を受賞した（A）。その後、『羊をめぐる冒険』（1982年）、『世界の終りとハードボイルド・ワンダーランド』（1985年）などを経て、1987年に発表した（B）は、僕と直子との恋愛を軸に、現代の孤独と喪失感を描き、1000万部（上下）を超える大ベストセラーになった。以降『ねじまき鳥クロニクル』（1994～95年）、『海辺のカフカ』（2002年）などの問題作を発表。2009年5月に刊行され、発売約1カ月で200万部（2冊）を超えるベストセラーになった『1Q84』は、（C）の『1984年』やオウム事件などの影響を読み取ることができる。

- ①ジョージ・オーウェル ②『1973年のピンボール』 ③チェーホフ
 ④『ダンス・ダンス・ダンス』 ⑤カート・ヴォネガット ⑥レイ・ブラッドベリ
 ⑦『ノルウェイの森』 ⑧『風の歌を聴け』

	A	B	C
ア	⑧	⑦	⑥
イ	②	④	①
ウ	⑧	⑦	①
エ	②	④	⑥

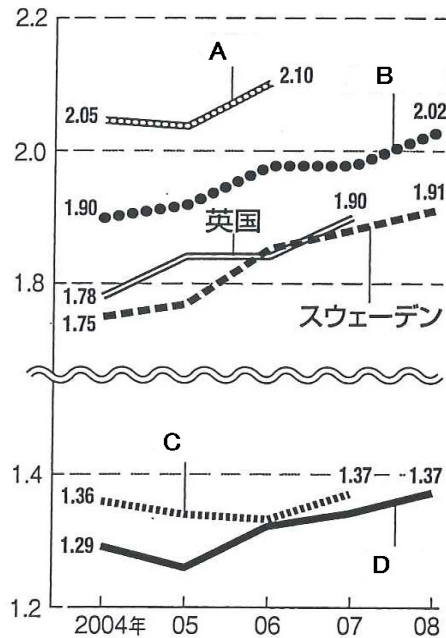
問4 サッカーW杯は1930年のウルグアイ大会から2006年のドイツ大会まで18回開催されているが、優勝回数の多い国順に並べたものとして、正しいものはどれか。

63

- ア フランス → ブラジル → オランダ
 イ ブラジル → アルゼンチン → スペイン
 ウ イタリア → ブラジル → イギリス
 エ ブラジル → イタリア → ドイツ

問5 次の図は、主な国の合計特殊出生率の推移である。図のA～Dの国・地域名の組み合わせとして、正しいものはどれか。 64

主な国の合計特殊出生率の推移



〔国立社会保障・人口問題研究所の
まとめなどから〕

	A	B	C	D
ア	米国	フランス	ドイツ	日本
イ	日本	米国	フランス	ドイツ
ウ	ドイツ	日本	米国	フランス
エ	フランス	ドイツ	日本	米国

問6 国際映画祭に関する次の記述のうち、下線部分が正しいものはどれか。 65

- ア カンヌ国際映画祭で2度、パルムドール（最優秀作品賞）を受賞した監督は、黒澤明である。
- イ ベネチア国際映画祭で金獅子賞（最優秀作品賞）を日本人が初めて受賞したのは第54回（1997年）の北野武監督である。
- ウ 第57回（2004年）カンヌ国際映画祭で、柳楽優弥が日本人として初めて最優秀男優賞を受賞した。
- エ 第52回（2002年）ベルリン国際映画祭でアニメ作品として初の金熊賞（最優秀作品賞）を獲得したのは、宮崎駿監督の「ハウルの動く城」である。

問7 ネットスーパーに関する次の記述のうち、正しいものはどれか。

66

- ア インターネットで注文し、指定時間内に最寄りの店舗で商品を受け取ることができるシステムのことである。
- イ 店舗の閉店時間後もネットで注文でき、即日配送が可能で、店舗に行く時間や持ち運ぶ労力が不要なので、消費者にとって便利なシステムである。
- ウ 在庫管理や配送システムの整備などの点で新規参入が困難なため、現在参入している企業は、スーパーやコンビニなど既存の流通大手に限られている。
- エ 指定時間内に配達され、留守でも郵便受けなどに入れてくれるので、時間にしばられず外出もできる。

問8 日本語を母国語としない作家と作品との組み合わせとして、誤っているものはどれか。

67

	作 家	作 品	出身国・地域
ア	楊 逸	『天安門』	台 湾
イ	シリン・ネザマフィ	『白い紙』	イラン
ウ	リービ英雄	『星条旗の聞こえない部屋』	米 国
エ	デビット・ゾペティ	『いちげんさん』	スイス

問9 著作権に関する次の記述のうち、誤っているものはどれか。

68

- ア 著作権の対象となるのは、美術、音楽、文学、映画、学術などの創作された著作物である。
- イ 著作権の中には、歌手、レコード製作者、放送局などに認められている「著作権隣接権」も含まれる。
- ウ 国際的な著作権の取り決めは、1886年の「ベルヌ条約」が最初である。
- エ 著作権の存続期間は、権利者の死後50年間に国際的に統一されている。

問10 2016年の夏季五輪から追加採用されることになった競技は、「7人制ラグビー」とどれか。

69

- ア 野球
- イ ソフトボール
- ウ ゴルフ
- エ 空手道

問11 2009年の世界陸上競技選手権大会に関する次の記述のうち、正しいものはどれか。

70

- ア ジャマイカのウサイン・ボルト選手は、100メートル、200メートル、400メートルリレーに出場したが、すべて世界記録で金メダルを獲得した。
- イ 女子マラソンで渋井陽子選手は、中国の白雪選手に次いで銀メダルを獲得した。
- ウ 男子やり投げで村上幸史選手が銅メダルを獲得したが、これはやり投げでは世界陸上・五輪を通じて日本人初のメダルである。
- エ 2013年の大会はロシアのサンクトペテルブルクで開催される。

M E M O

試験問題内容に関して、他人にこれを伝え、漏洩することを禁じます。

禁無断転載複写